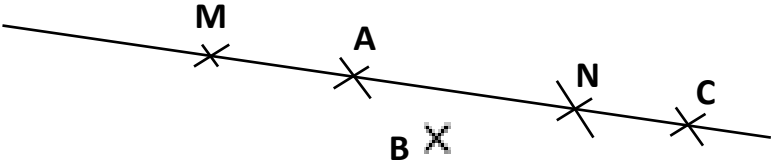
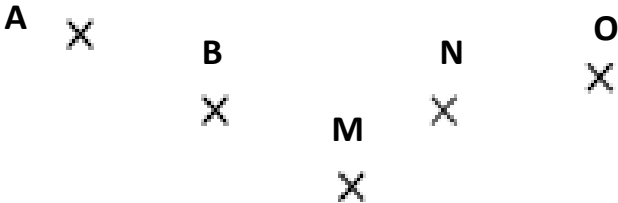
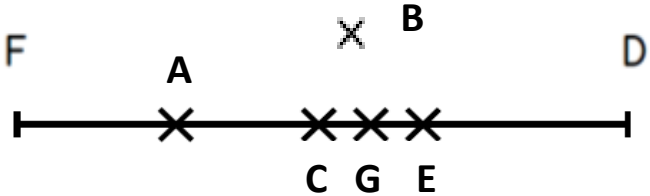








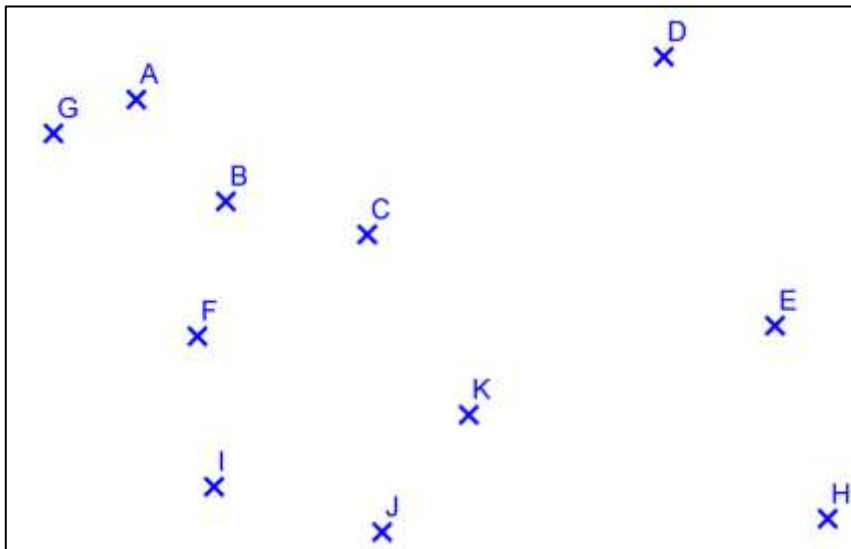


Pages 1,2 : évaluation corrigée pour l'enseignant (la réponse juste est indiquée en rouge)

Pages 3, 4 : évaluation pour les élèves

<p><b>Consigne : entoure la réponse qui convient</b></p>	<p><b>Réponses</b></p>
<p style="text-align: center;"><b>Question 1</b></p> <p>Quel point n'est pas aligné avec M et N ?</p> 	<p>A ► le point A</p> <p><b>B ► le point B</b></p> <p>C ► le point C</p> <p>D ► Je ne sais pas</p>
<p style="text-align: center;"><b>Question 2</b></p> <p>Trace la droite qui relie 3 points alignés. Quels sont les points sur cette droite ?</p> 	<p>A ► les points B, N et O</p> <p>B ► les points M, N et O</p> <p><b>C ► les points A, B et M</b></p> <p>D ► Je ne sais pas.</p>
<p style="text-align: center;"><b>Question 3</b></p> <p>Max, Nora et Léo ont observé le dessin.</p>  <p> Léo dit : « Le point D est sur la droite (CE) ».</p> <p> Nora dit : « Le point D est sur le segment [CE] ».</p> <p> Max dit : « Le point G est le milieu du segment [CE] ».</p> <p><b>Qui s'est trompé ?</b></p>	<p>A ► </p> <p><b>B ► </b></p> <p>C ► </p> <p>D ► Je ne sais pas</p>

Question 4



A ► 

B ► 

C ► 

D ► Je ne sais pas



Léo dit : « Le point I est sur la droite (GF). »



Nora dit : « Le point E est sur le segment [IK]. »



Max dit : « Le point C est sur le segment [FD]. »

Qui ne s'est pas trompé ?

Évaluation G1

Question 1 : A ► 0 ; B ► 1 ; C ► 0 ; D ► 0

Question 3 : A ► 0 ; B ► 1 ; C ► 0 ; D ► 0

Question 2 : A ► 0 ; B ► 0 ; C ► 1 ; D ► 0

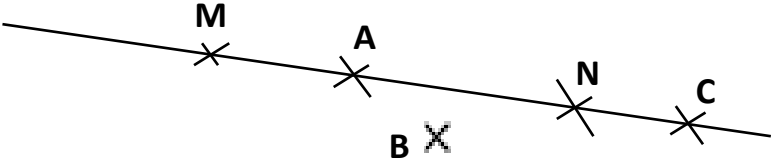

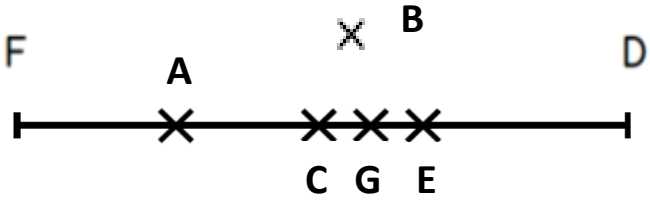






Question 4 : A ► 0 ; B ► 0 ; C ► 1 ; D ► 0



**Evaluation G1** : connaitre les notions de droite, segment et milieu d'un segment

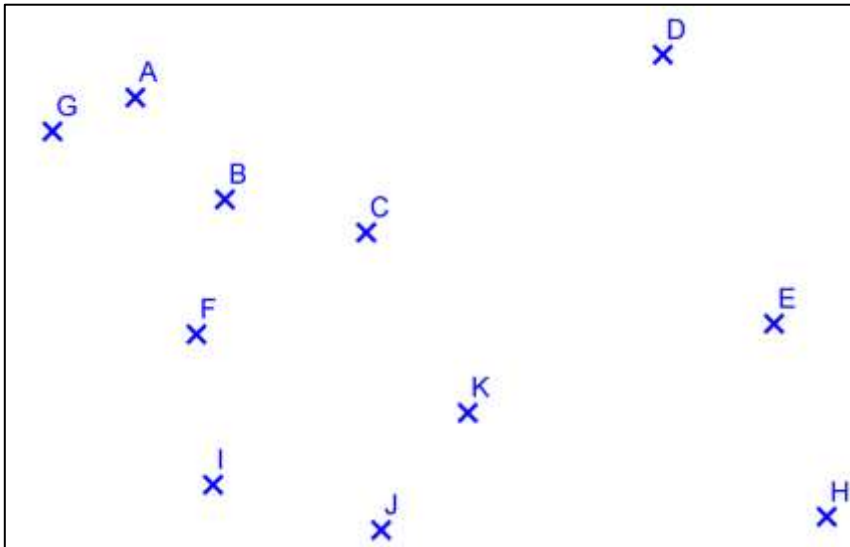
PRENOM : \_\_\_\_\_

Pour chaque question entoure la réponse qui convient.

Questions	Réponses
<p><b>Question 1</b></p> <p>Quel point n'est pas aligné avec M et N ?</p> 	<p>A ► le point A</p> <p>B ► le point B</p> <p>C ► le point C</p> <p>D ► Je ne sais pas</p>
<p><b>Question 2</b></p> <p>Trace la droite qui relie 3 points alignés.</p> <p>Quels sont les points sur cette droite ?</p> 	<p>A ► les points B, N et O</p> <p>B ► les points M, N et O</p> <p>C ► les points A, B et M</p> <p>D ► Je ne sais pas.</p>
<p><b>Question 3</b></p> <p>Max, Nora et Léo ont observé le dessin.</p>  <p> Léo dit : « Le point D est sur la droite (CE). »</p> <p> Nora dit : « Le point D est sur le segment [CE]. »</p> <p> Max dit : « Le point G est le milieu du segment [CE]. »</p> <p>Qui s'est trompé ?</p>	<p>A ► </p> <p>B ► </p> <p>C ► </p> <p>D ► Je ne sais pas</p>

**Evaluation G1 : connaître les notions de droite, segment et milieu d'un segment**  
(suite)

**Question 4**



Léo dit : « Le point I est sur la droite (GF). »



Nora dit : « Le point E est sur le segment [IK]. »



Max dit : « Le point C est sur le segment [FD]. »

**Qui ne s'est pas trompé ?**

A ►

B ►

C ►

D ► Je ne sais pas