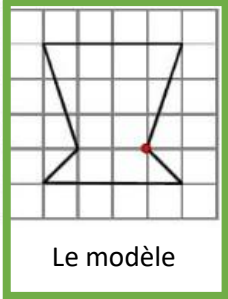
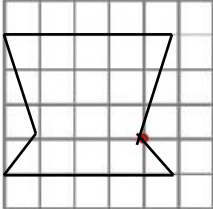
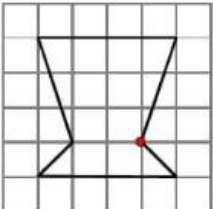
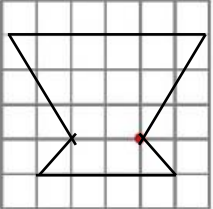
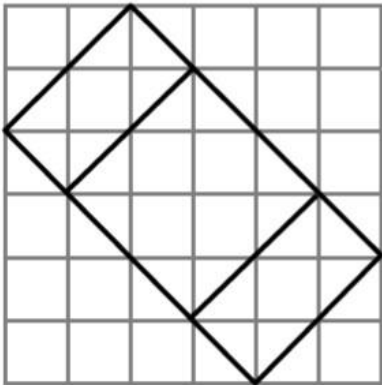
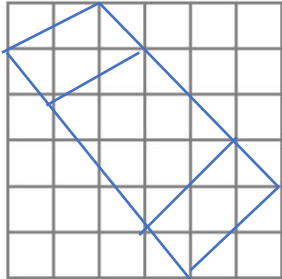

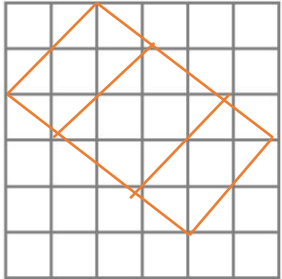

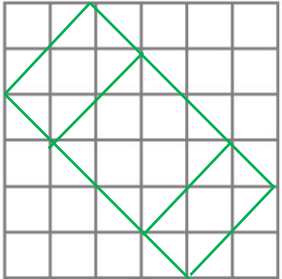




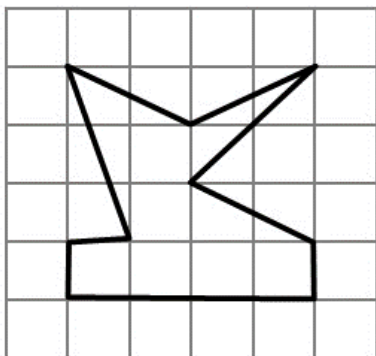




Consigne : entoure la réponse qui convient	Réponses
<p style="text-align: center;">Question 1</p> <div style="display: flex; justify-content: space-around; align-items: flex-start;"> <div style="border: 2px solid green; padding: 5px; text-align: center;">  <p>Le modèle</p> </div> <div style="text-align: center;">  <p>Le dessin A</p> </div> <div style="text-align: center;">  <p>Le dessin B</p> </div> <div style="text-align: center;">  <p>Le dessin C</p> </div> </div> <p>Quel est le dessin qui reproduit exactement le modèle ?</p>	<p>A ► le dessin A</p> <p>B ► le dessin B</p> <p>C ► le dessin C</p> <p>D ► Je ne sais pas.</p>
<p style="text-align: center;">Question 2</p> <div style="text-align: center; margin-bottom: 20px;">  </div> <p>Lola, Léo et Nora on reproduit le dessin.</p> <div style="display: flex; justify-content: space-around; align-items: flex-end;"> <div style="text-align: center;">   </div> <div style="text-align: center;">   </div> <div style="text-align: center;">   </div> </div> <p>Qui ne s'est pas trompé ?</p>	<p>A ► </p> <p>B ► </p> <p>C ► </p> <p>D ► Je ne sais pas.</p>

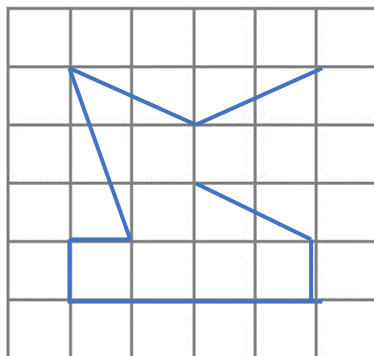
Question 3

a b c d e f g



1
2
3
4
5
6
7

a b c d e f g



A ► entre les nœuds f3 et d5

B ► entre les nœuds f2 et d3


C ► entre les nœuds d4 et f2

D ► Je ne sais pas.




Pour compléter la figure, il reste à tracer un segment entre ?

Question 4

Voici le dessin de Lola.



Max, Nora et Léo ont essayé de faire le dessin inversé de Lola.



A ►



B ►



C ►



D ► Je ne sais pas.

Qui a réussi ?

Correction pour le professeur : Evaluation G2

Question 1 : A ► 0 ; B ► 1 ; C ► 0 ; D ► 0

Question 3 : A ► 0 ; B ► 0 ; C ► 1 ; D ► 0

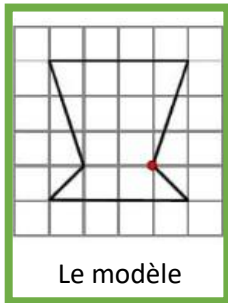
Question 2 : A ► 1 ; B ► 0 ; C ► 0 ; D ► 0

Question 4 : A ► 0 ; B ► 1 ; C ► 0 ; D ► 0

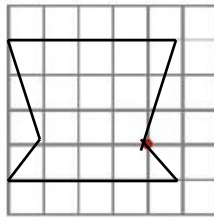


Pour chaque question entoure la réponse qui convient.

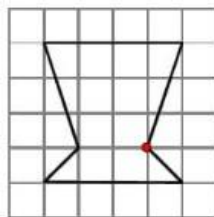
Question 1



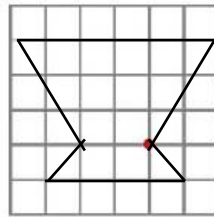
Le modèle



Le dessin A



Le dessin B



Le dessin C

Quel est le dessin qui reproduit exactement le modèle ?

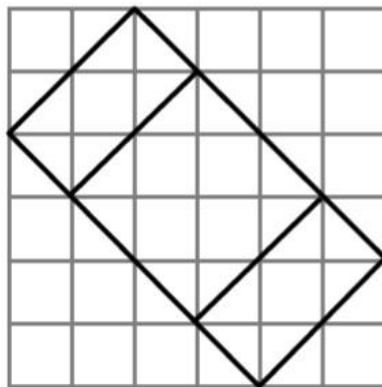
A ► le dessin A

B ► le dessin B

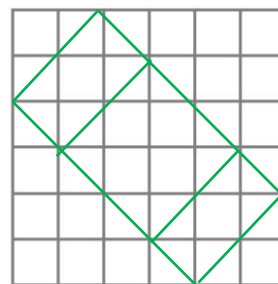
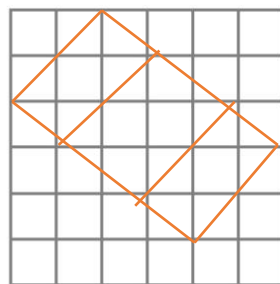
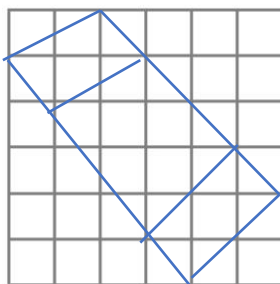
C ► le dessin C

D ► Je ne sais pas.

Question 2



Lola, Léo et Nora on reproduit le dessin.



Qui ne s'est pas trompé ?

A ►



B ►



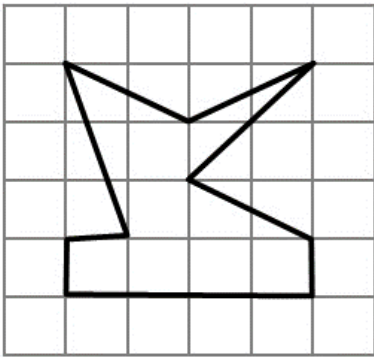
C ►



D ► Je ne sais pas.

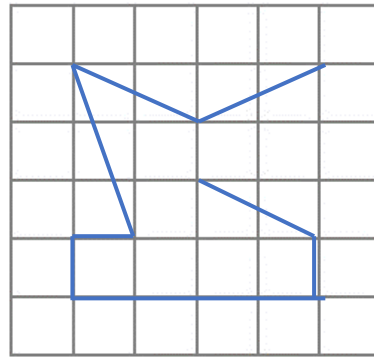
Question 3

a b c d e f g



1
2
3
4
5
6
7

a b c d e f g



Pour compléter la figure, il reste à tracer un segment entre ?

A ► entre les nœuds f3 et d5


B ► entre les nœuds f2 et d3

C ► entre les nœuds d4 et f2




D ► Je ne sais pas.

Question 4

Voici le dessin de Lola.



Max, Nora et Léo ont essayé de faire le dessin inversé de Lola.



Qui a réussi ?

A ►

B ►

C ►

D ► Je ne sais pas.