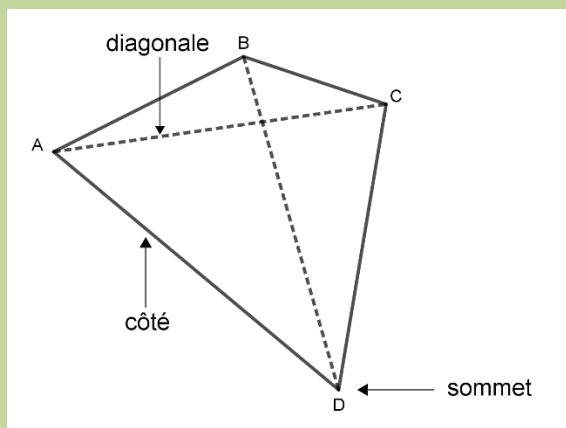




**CE2-G3 : décrire des polygones**

**Aide-memo**

**Ce sont des polygones**

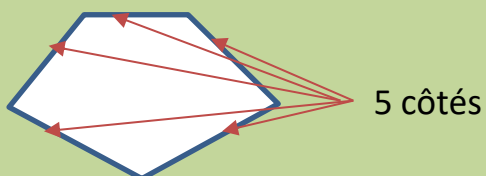


**Ce ne sont pas des polygones**

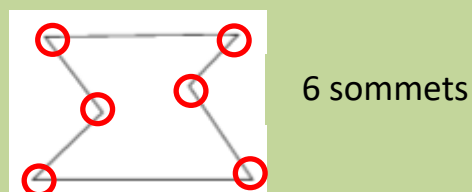


**Pour décrire un polygone, on peut repérer :**

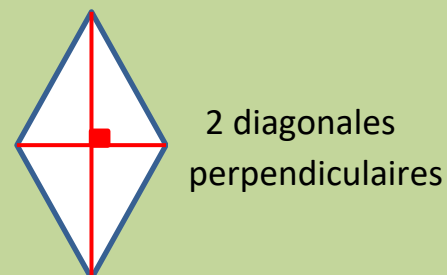
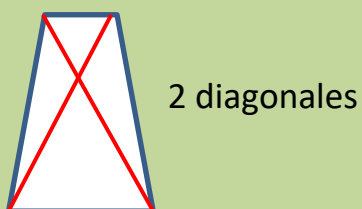
**son nombre de côtés**



**son nombre de sommets**



**ses diagonales**



**si ses côtés sont tous de la même longueur ou non**



Tous les côtés du triangle ont la même longueur.