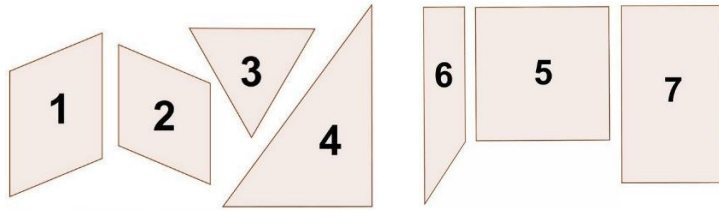











Page 1 : évaluation corrigée pour l'enseignant (les réponses justes sont en rouge)

Page 2 : évaluation pour les élèves (avec règle et équerre)

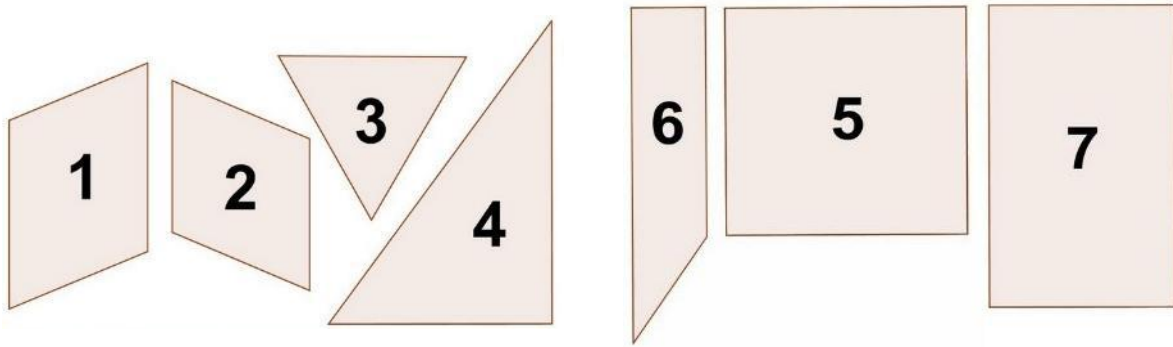
Page 3 : document à imprimer et à distribuer aux élèves passant l'évaluation numérisée



Consigne : entoure la réponse qui convient	Réponses
<p><b>Question 1</b></p> <p>J'ai 4 côtés, j'ai 2 angles droits.</p> <p>Je suis le polygone n°.....</p>	<p>A ► le polygone n°5</p> <p><b>B ► le polygone n°6</b></p> <p>C ► le polygone n°7</p> <p>D ► Je ne sais pas.</p>
<p><b>Question 2</b></p> <p>Je suis le polygone n°3.</p> <p>Quelle est la phrase vraie ?</p>	<p>A ► J'ai 4 sommets. J'ai 2 angles droits.</p> <p>B ► J'ai 3 sommets. J'ai un angle droit.</p> <p><b>C ► J'ai 3 sommets. Toutes mes côtés ont même longueur.</b></p> <p>D ► Je ne sais pas.</p>
<p><b>Question 3</b></p> <p><b>Devinette</b></p> <ul style="list-style-type: none"> <li>• Je suis un polygone à 4 sommets.</li> <li>• J'ai 4 angles droits.</li> <li>• Tous mes côtés ont la même longueur.</li> </ul> <p>Qui suis-je ?</p>	<p><b>A ► Je suis le polygone n°5</b></p> <p>B ► Je suis le polygone n°6</p> <p>C ► Je suis le polygone n°7</p> <p>D ► Je ne sais pas.</p>
<p><b>Question 4</b></p> <p> Lola a tracé les diagonales du polygone n°2.</p> <p> Max dit : « C'est un losange ».</p> <p> Nora dit : « Les diagonales sont de même longueur ».</p> <p> Léo dit : « Les diagonales sont perpendiculaires ».</p> <p>Qui s'est trompé ?</p>	<p>A ► </p> <p><b>B ► </b></p> <p>C ► </p> <p>D ► Je ne sais pas.</p>

**Correction pour le professeur : Evaluation G3**

Question 1 : A ► 0 ; <b>B ► 1</b> ; C ► 0 ; D ► 0	Question 2 : A ► 0 ; B ► 0 ; <b>C ► 1</b> ; D ► 0
Question 3 : <b>A ► 1</b> ; B ► 0 ; C ► 0 ; D ► 0	Question 4 : A ► 0 ; <b>B ► 1</b> ; C ► 0 ; D ► 0



*Pour chaque question entoure la réponse qui convient. Utilise ta règle et ton équerre.*

Questions	Réponses
<p><b>Question 1</b></p> <p>J'ai 4 côtés, j'ai 2 angles droits.</p> <p>Je suis le polygone n°.....</p>	<p>A ► le polygone n°5</p> <p>B ► le polygone n°6</p> <p>C ► le polygone n°7</p> <p>D ► Je ne sais pas.</p>
<p><b>Question 2</b></p> <p>Je suis le polygone n°3.</p> <p><b>Quelle est la phrase vraie ?</b></p>	<p>A ► J'ai 4 sommets. J'ai 2 angles droits.</p> <p>B ► J'ai 3 sommets. J'ai un angle droit.</p> <p>C ► J'ai 3 sommets. Toutes mes côtés ont même longueur.</p> <p>D ► Je ne sais pas.</p>
<p><b>Question 3</b></p> <p><b>Devinette</b></p> <ul style="list-style-type: none"><li>• Je suis un polygone à 4 sommets.</li><li>• J'ai 4 angles droits.</li><li>• Tous mes côtés ont la même longueur.</li></ul> <p><b>Qui suis-je ?</b></p>	<p>A ► Je suis le polygone n°5</p> <p>B ► Je suis le polygone n°6</p> <p>C ► Je suis le polygone n°7</p> <p>D ► Je ne sais pas.</p>

**Question 4**

Lola a tracé les diagonales du polygone n°2.



Max dit : « *C'est un losange* ».



Nora dit : « *Les diagonales sont de même longueur* ».



Léo dit : « *Les diagonales sont perpendiculaires* ».

**Qui s'est trompé ?**

A ►



B ►



C ►



D ► Je ne sais pas.