
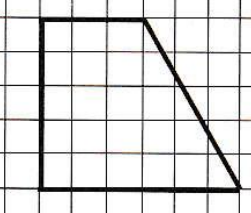
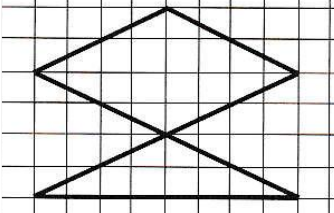

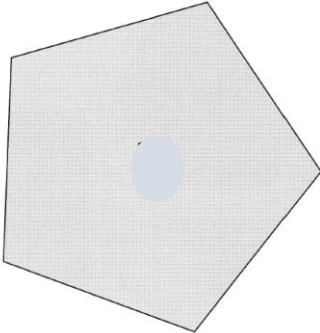






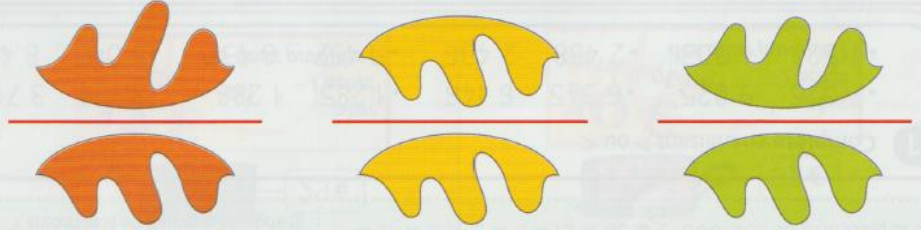




<p>Consigne : entoure la réponse qui convient</p>	<p>Réponses</p>
<p style="text-align: center;">Question 1</p> <p>Quelle est la figure qui a 1 axe de symétrie ?</p> <div style="display: flex; justify-content: space-around; align-items: center;"> <div style="text-align: center;">  <p>Figure 1</p> </div> <div style="text-align: center;">  <p>Figure 2</p> </div> <div style="text-align: center;">  <p>Figure 3</p> </div> </div>	<p>A ► la figure 1</p> <p>B ► la figure 2</p> <p>C ► la figure 3</p> <p>D ► Je ne sais pas.</p>
<p style="text-align: center;">Question 2</p> <p>Combien d'axes de symétrie a ce motif ?</p> <div style="text-align: center;">  </div>	<p>A ► 2 axes</p> <p>B ► 1 axe</p> <p>C ► 0 axe</p> <p>D ► Je ne sais pas.</p>
<p style="text-align: center;">Question 3</p> <p>Voici un polygone.</p> <div style="text-align: center;">  </div> <div style="margin-top: 20px;">  Lola dit : « <i>il a au moins 1 axe de symétrie</i> ».  Léo dit : « <i>il a 0 axe de symétrie.</i> »  Max dit : « <i>il a 5 axes de symétrie</i> ». </div> <p style="margin-top: 20px;">Qui s'est trompé ?</p>	<p>A ► Lola </p> <p>B ► Léo </p> <p>C ► Max </p> <p>D ► Je ne sais pas.</p>



Consigne : entoure la réponse qui convient	Réponses
<p style="text-align: center;">Question 4</p> <p>Voici 3 figures. Quelle est la figure symétrique par rapport à l'axe rouge ?</p> 	<p>A ► la figure rouge</p> <p>B ► la figure jaune</p> <p><u>C ► la figure verte</u></p> <p>D ► Je ne sais pas.</p>


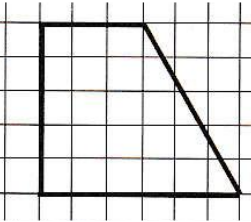
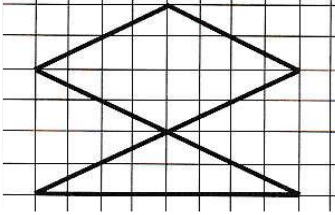

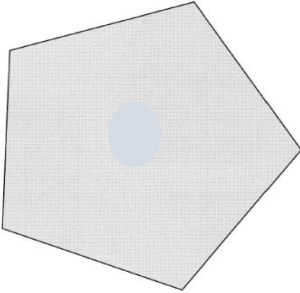






Évaluation G8

Question 1 : A ► 0 ; B ► 0 ; C ► 1 ; D ► 0	Question 2 : A ► 1 ; B ► 0 ; C ► 0 ; D ► 0
Question 3 : A ► 0 ; B ► 1 ; C ► 0 ; D ► 0	Question 4 : A ► 0 ; B ► 0 ; C ► 1 ; D ► 0



PRENOM : _____

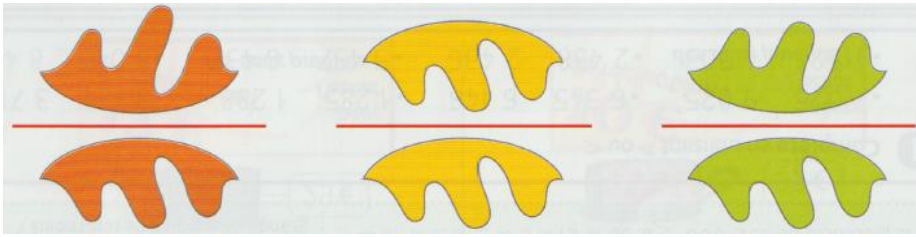
Pour chaque question entoure la réponse qui convient.

Questions	Réponses
<p style="text-align: center;">Question 1</p> <p>Quelle est la figure qui a 1 axe de symétrie ?</p> <div style="display: flex; justify-content: space-around;"><div style="text-align: center;"><p>Figure 1</p></div><div style="text-align: center;"><p>Figure 2</p></div><div style="text-align: center;"><p>Figure 3</p></div></div>	<p>A ► la figure 1</p> <p>B ► la figure 2</p> <p>C ► la figure 3</p> <p>D ► Je ne sais pas.</p>
<p style="text-align: center;">Question 2</p> <p>Combien d'axes de symétrie a ce motif ?</p> <div style="text-align: center;"></div>	<p>A ► 2 axes</p> <p>B ► 1 axe</p> <p>C ► 0 axe</p> <p>D ► Je ne sais pas.</p>
<p style="text-align: center;">Question 3</p> <p>Voici un polygone.</p> <div style="text-align: center;"></div> <div style="display: flex; flex-direction: column; align-items: flex-start;"><div style="margin-bottom: 10px;"><p>Lola dit : « <i>il a au moins 1 axe de symétrie</i> ».</p></div><div style="margin-bottom: 10px;"><p>Léo dit : « <i>il a 0 axe de symétrie.</i> »</p></div><div><p>Max dit : « <i>il a 5 axes de symétrie</i> ».</p></div></div> <p style="text-align: center;">Qui s'est trompé ?</p>	<p>A ► Lola </p> <p>B ► Léo </p> <p>C ► Max </p> <p>D ► Je ne sais pas.</p>

Question 4

Voici 3 figures.

Quelle est la figure symétrique par rapport à l'axe rouge ?



- A ► la figure rouge
- B ► la figure jaune
- C ► la figure verte
- D ► Je ne sais pas.