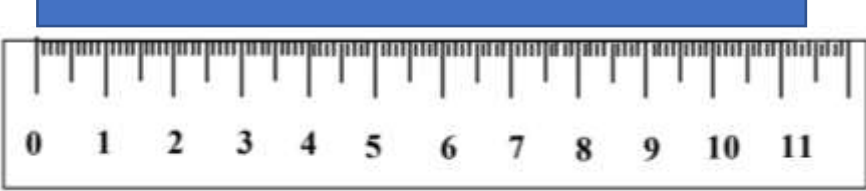
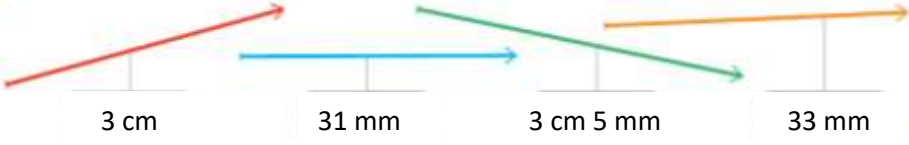






Consigne : entoure la réponse qui convient	Réponses
<p align="center">Question 1</p> <p>Combien mesure la bande bleue ?</p> 	<p>A ► 11 cm</p> <p>B ► 1 dm 1 cm 4 mm</p> <p>C ► 12 cm</p> <p>D ► Je ne sais pas.</p>
<p align="center">Question 2</p> <p>Quelle est la flèche la plus longue ?</p> 	<p>A ► la flèche verte</p> <p>B ► la flèche bleue</p> <p>C ► la flèche orange</p> <p>D ► Je ne sais pas</p>
<p align="center">Question 3</p> <p>Quelle est la longueur la plus grande ?</p> 	<p>A ► 4 dm 2 cm</p> <p>B ► 4 cm 2 mm</p> <p>C ► 402 mm</p> <p>D ► Je ne sais pas.</p>
<p align="center">Question 4</p> <p>Quelle est la mesure de longueur du chemin qui sépare la souris de son fromage ?</p> 	<p>A ► 207 mm</p> <p>B ► 20 cm 7 mm</p> <p>C ► 2 dm 1 cm 7 mm</p> <p>D ► Je ne sais pas.</p>


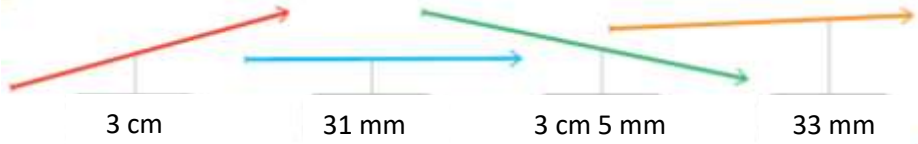

Correction pour le professeur : Evaluation M3

<p>Question 1 : A ► 0 ; B ► 1 ; C ► 0 ; D ► 0</p> <p>Question 3 : A ► 1 ; B ► 0 ; C ► 0 ; D ► 0</p>	<p>Question 2 : A ► 1 ; B ► 0 ; C ► 0 ; D ► 0</p> <p>Question 4 : A ► 0 ; B ► 0 ; C ► 1 ; D ► 0</p>
---	---



PRENOM : _____

Pour chaque question entoure la réponse qui convient.

<p style="text-align: center;">Question 1</p> <p>Combien mesure la bande bleue ?</p> 	<p>A ► 11 cm</p> <p>B ► 1 dm 1 cm 4 mm</p> <p>C ► 12 cm</p> <p>D ► Je ne sais pas.</p>
<p style="text-align: center;">Question 2</p> <p>Quelle est la flèche la plus longue ?</p> 	<p>A ► la flèche verte</p> <p>B ► la flèche bleue</p> <p>C ► la flèche orange</p> <p>D ► Je ne sais pas</p>
<p style="text-align: center;">Question 3</p> <p>Quelle est la longueur la plus grande ?</p> <p>42 cm 4 cm 2 mm 42 mm 4 dm 2 cm 402 mm</p>	<p>A ► 4 dm 2 cm</p> <p>B ► 4 cm 2 mm</p> <p>C ► 402 mm</p> <p>D ► Je ne sais pas.</p>
<p style="text-align: center;">Question 4</p> <p>Quelle est la mesure de longueur du chemin qui sépare la souris de son fromage ?</p> 	<p>A ► 207 mm</p> <p>B ► 20 cm 7 mm</p> <p>C ► 2 dm 1 cm 7 mm</p> <p>D ► Je ne sais pas.</p>