


















| Consigne : entoure la réponse qui convient | Réponses |
|--|--|
| <p style="text-align: center;">Question 1</p> <p> Léo a</p> <div style="display: flex; justify-content: space-around; align-items: center;">     </div> <div style="display: flex; justify-content: space-around; align-items: center; margin-top: 10px;">     </div> <p>Combien Léo a-t-il d'argent ?</p> | <p>A ► 135 € 43 ct</p> <p>B ► 138 € 40 ct</p> <p>C ► 142 €</p> <p>D ► Je ne sais pas.</p> |
| <p style="text-align: center;">Question 2</p> <p> Max doit payer 128 euros 90 centimes au supermarché.</p> <div style="display: flex; justify-content: space-around; align-items: center; margin-top: 10px;">    </div> <p>Max a déjà donné</p> <p>Combien doit-il encore donner à la caisse ?</p> | <p>A ► 18 € 90 ct</p> <p>B ► 13 € 90 ct</p> <p>C ► 23 € 90 ct</p> <p>D ► Je ne sais pas.</p> |
| <p style="text-align: center;">Question 3</p> <p> Nora a acheté un pantalon à 72 € 90 ct et un pull à 34 € 30 ct.</p> <p>Combien Nora a-t-elle dépensé ?</p> | <p>A ► 106 € 20 ct</p> <p>B ► 107 € 20 ct</p> <p>C ► 106 € 93 ct</p> <p>D ► Je ne sais pas.</p> |
| <p style="text-align: center;">Question 4</p> <p> Lola avait 90 euros. Elle a acheté un équipement de basket.</p> <p>La marchande lui rend 16 euros 50 centimes.</p> <p>Combien coûte son équipement de basket ?</p> | <p>A ► 83 € 50 ct</p> <p>B ► 84 € 50 ct</p> <p>C ► 74 € 50 ct</p> <p>D ► Je ne sais pas.</p> |
















Correction pour le professeur : Evaluation M6

| | |
|--|--|
| Question 1 : A ► 0 ; B ► 1 ; C ► 0 ; D ► 0 | Question 2 : A ► 0 ; B ► 0 ; C ► 1 ; D ► 0 |
| Question 3 : A ► 0 ; B ► 1 ; C ► 0 ; D ► 0 | Question 4 : A ► 1 ; B ► 0 ; C ► 0 ; D ► 0 |



PRENOM : _____

Pour chaque question entoure la réponse qui convient.

| Questions | Réponses |
|---|---|
| <p style="text-align: center;">Question 1</p> <p> Léo a    </p> <p>   </p> <p>Combien Léo a-t-il d'argent ?</p> | <p>A ► 135 € 43 ct</p> <p>B ► 138 € 40 ct</p> <p>C ► 142 €</p> <p>D ► Je ne sais pas.</p> |
| <p style="text-align: center;">Question 2</p> <p> Max doit payer 128 euros 90 centimes au supermarché.</p> <p>Max a déjà donné   </p> <p>Combien doit-il encore donner à la caisse ?</p> | <p>A ► 18 € 90ct</p> <p>B ► 13 € 90 ct</p> <p>C ► 23 € 90 ct</p> <p>D ► Je ne sais pas.</p> |
| <p style="text-align: center;">Question 3</p> <p> Nora a acheté un pantalon à 72 € 90 ct et un pull à 34 € 30 ct.</p> <p>Combien Nora a-t-elle dépensé ?</p> | <p>A ► 106 € 20 ct</p> <p>B ► 107 € 20 ct</p> <p>C ► 106 € 93 ct</p> <p>D ► Je ne sais pas.</p> |
| <p style="text-align: center;">Question 4</p> <p> Lola avait 90 euros. Elle a acheté un équipement de basket.</p> <p>La marchande lui rend 16 euros 50 centimes.</p> <p>Combien coûte son équipement de basket ?</p> | <p>A ► 83 € 50 ct</p> <p>B ► 84 € 50 ct</p> <p>C ► 74 € 50 ct</p> <p>D ► Je ne sais pas.</p> |