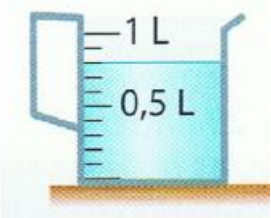
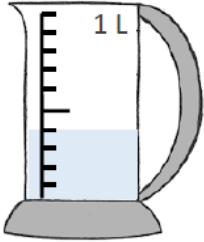






<i>Consigne : entoure la réponse qui convient</i>	<i>Réponses</i>
<p align="center"><b>Question 1</b></p> <p>Combien de centilitres d'eau y a-t-il dans le verre doseur ?</p> 	<p>A ► 0,8 cL</p> <p>B ► 8 cL</p> <p><b>C ► 80 cL</b></p> <p>D ► Je ne sais pas.</p>
<p align="center"><b>Question 2</b></p> <p>Quel volume d'eau en millilitres faut-il ajouter pour obtenir 1 litre ?</p> 	<p>A ► 400 mL</p> <p><b>B ► 600 mL</b></p> <p>C ► 60 mL</p> <p>D ► Je ne sais pas.</p>
<p align="center"><b>Question 3</b></p> <p>Range ces objets de la plus petite contenance à la plus grande.</p> <p align="center"> <span>a</span>      <span>b</span>      <span>c</span>      <span>d</span> </p> 	<p><b>A ► a &lt; b &lt; c &lt; d</b></p> <p>B ► b &lt; c &lt; a &lt; d</p> <p>C ► b &lt; d &lt; a &lt; c</p> <p>D ► Je ne sais pas.</p>
<p align="center"><b>Question 4</b></p> <p>Chaque verre contient 6 cL d'eau. Combien de verres pourra-t-on remplir ?</p> 	<p>A ► 3 verres</p> <p>B ► 4 verres</p> <p><b>C ► 5 verres</b></p> <p>D ► Je ne sais pas.</p>

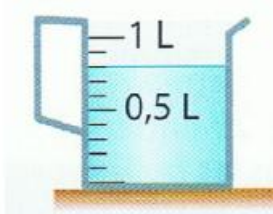
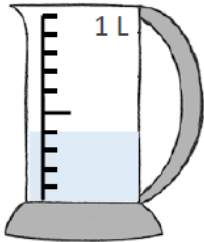

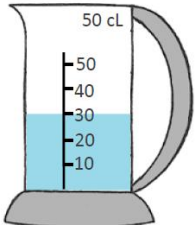

**Correction pour le professeur : Evaluation M8**

Question 1 : A ► 0 ; B ► 0 ; <b>C ► 1</b> ; D ► 0	Question 2 : A ► 0 ; <b>B ► 1</b> ; C ► 0 ; D ► 0
Question 3 : <b>A ► 1</b> ; B ► 0 ; C ► 0 ; D ► 0	Question 4 : A ► 0 ; B ► 0 ; <b>C ► 1</b> ; D ► 0



PRENOM : \_\_\_\_\_

Pour chaque question entoure la réponse qui convient.

Questions	Réponses
<p><b>Question 1</b></p> <p>Combien de centilitres d'eau y a-t-il dans le verre doseur ?</p> 	<p>A ► 0,8 cL</p> <p>B ► 8 cL</p> <p>C ► 80 cL</p> <p>D ► Je ne sais pas.</p>
<p><b>Question 2</b></p> <p>Quel volume d'eau en millilitres faut-il ajouter pour obtenir 1 litre ?</p> 	<p>A ► 400 mL</p> <p>B ► 600 mL</p> <p>C ► 60 mL</p> <p>D ► Je ne sais pas.</p>
<p><b>Question 3</b></p> <p>Range ces objets de la plus petite contenance à la plus grande.</p> <p>a                      b                      c                      d</p> 	<p>A ► <math>a &lt; b &lt; c &lt; d</math></p> <p>B ► <math>b &lt; c &lt; a &lt; d</math></p> <p>C ► <math>b &lt; d &lt; a &lt; c</math></p> <p>D ► Je ne sais pas.</p>
<p><b>Question 4</b></p> <p>Chaque verre contient 6 cL d'eau.</p> <p>Combien de verres pourra-t-on remplir ?</p>  	<p>A ► 3 verres</p> <p>B ► 4 verres</p> <p>C ► 5 verres</p> <p>D ► Je ne sais pas.</p>