





Consigne : entoure la réponse qui convient	Réponses
<p align="center">Question 1</p> <p>Écris dans la case le nom de l'unité qui convient : centimètres - mètres - kilomètre - grammes - kilogrammes - minutes - heures - euros - litres.</p> <p>Le trajet en avion de Paris à New-York dure 7 <input type="text"/></p>	<p>A ► centimètres</p> <p>B ► mètres</p> <p>C ► heures</p> <p>D ► Je ne sais pas.</p>
<p align="center">Question 2</p> <p>Un tigre mange 3 kg de viande chaque jour. Le cirque Maximus a 3 tigres.</p> <p>Quelle quantité de viande faut-il pour nourrir les tigres chaque jour ?</p>	<p>A ► 3 kg</p> <p>B ► 9 kg</p> <p>C ► 27 kg</p> <p>D ► Je ne sais pas.</p>
<p align="center">Question 3</p> <p>Quelle est la durée la plus proche de ?</p> <div style="border: 1px solid black; border-radius: 15px; padding: 5px; width: fit-content; margin: 10px auto;">53 min + 57 min</div>	<p>A ► 2 heures</p> <p>B ► 1 heure</p> <p>C ► 3 heures</p> <p>D ► Je ne sais pas.</p>
<p align="center">Question 4</p> <p>Léo achète un livre à 6 € 25 c et un dictionnaire à 24 € 75 c.</p> <div style="display: flex; justify-content: space-around; align-items: center;">   </div> <p>Combien Léo doit-il payer en tout ?</p>	<p>A ► 30 €</p> <p>B ► 30 € 90 ct</p> <p>C ► 31 €</p> <p>D ► Je ne sais pas.</p>

Correction pour le professeur : Evaluation **M9**


Question 1 : A ► 0 ; B ► 0 ; C ► 1 ; D ► 0	Question 2 : A ► 0 ; B ► 1 ; C ► 0 ; D ► 0
Question 3 : A ► 1 ; B ► 0 ; C ► 0 ; D ► 0	Question 4 : A ► 0 ; B ► 0 ; C ► 1 ; D ► 0



CE2-M9 : utiliser les unités de mesure usuelles pour résoudre des problèmes

PRENOM : _____

Pour chaque question entoure la réponse qui convient.

Questions	Réponses
<p>Question 1</p> <p>Écris dans la case le nom de l'unité qui convient : <i>centimètres - mètres - kilomètre - grammes - kilogrammes - minutes - heures - euros - litres.</i></p> <p>Le trajet en avion de Paris à New-York dure 7 <input type="text"/></p>	<p>A ► centimètres</p> <p>B ► mètres</p> <p>C ► heures</p> <p>D ► Je ne sais pas.</p>
<p>Question 2</p> <p>Un tigre mange 3 kg de viande chaque jour. Le cirque Maximus a 3 tigres.</p> <p>Quelle quantité de viande faut-il pour nourrir les tigres chaque jour ?</p>	<p>A ► 3 kg</p> <p>B ► 9 kg</p> <p>C ► 27 kg</p> <p>D ► Je ne sais pas.</p>
<p>Question 3</p> <p>Quelle est la durée la plus proche de ?</p> <p><input type="text" value="53 min + 57 min"/></p>	<p>A ► 2 heures</p> <p>B ► 1 heure</p> <p>C ► 3 heures</p> <p>D ► Je ne sais pas.</p>
<p>Question 4</p> <p>Léo achète un livre à 6 € 25 c et un dictionnaire à 24 € 75 c.</p> <p></p> <p>Combien Léo doit-il payer en tout ?</p>	<p>A ► 30 €</p> <p>B ► 30 € 90 ct</p> <p>C ► 31 €</p> <p>D ► Je ne sais pas.</p>