







CM1-EVALUATION : domaine M

M 9 : relier les unités de mesures et les unités de numération

Page 1 : évaluation corrigée pour l'enseignant (la réponse juste est indiquée en rouge)

Page 2 : évaluation pour les élèves

| Consigne : entoure la réponse qui convient. | Réponses |
|---|--|
| <p>Question 1</p>  <p>Si une somme d'argent de 1 € représente l'unité, la pièce qui correspond à $\frac{1}{10}$ est ...?</p> | <p>A ► 1 ct</p> <p>B ► 10 ct</p> <p>C ► 100 ct</p> <p>D ► Je ne sais pas</p> |
| <p>Question 2</p>  <p>Si une somme d'argent de 1 € représente l'unité, la pièce qui correspond à $\frac{50}{100}$ est... ?</p> | <p>A ► 50 ct</p> <p>B ► 5 ct</p> <p>C ► 2 ct</p> <p>D ► Je ne sais pas</p> |
| <p>Question 3</p>  <p>Si une longueur de 1 m représente l'unité, la fraction qui correspond à 1 cm est ...?</p> | <p>A ► $\frac{1}{10}$</p> <p>B ► $\frac{1}{100}$</p> <p>C ► $\frac{1}{1000}$</p> <p>D ► Je ne sais pas</p> |
| <p>Question 4</p>  <p>Si une masse de 1 kg représente l'unité, la masse qui correspond à $2 + \frac{3}{10}$ est ...?</p> | <p>A ► 2 kg 3 g</p> <p>B ► 2 kg 30 g</p> <p>C ► 2 kg 300 g</p> <p>D ► Je ne sais pas</p> |

Récapitulatif

| | |
|--|--|
| Question 1 : A ► 0 ; B ► 1 ; C ► 0 ; D ► 0 | Question 3 : A ► 0 ; B ► 1 ; C ► 0 ; D ► 0 |
| Question 2 : A ► 1 ; B ► 0 ; C ► 0 ; D ► 0 | Question 4 : A ► 0 ; B ► 0 ; C ► 1 ; D ► 0 |
| Réponses aux questions | Parcours d'entraînement individualisé |
| 4 réponses correctes | activités *** |
| 2 ou 3 réponses correctes | activités ** |
| 0 ou 1 réponse correcte | activités * |







CM1-EVALUATION : domaine M

M 9 : relier les unités de mesures et les unités de numération

PRENOM : _____

Consigne : pour chaque question entoure la réponse qui convient.

| Questions | Réponses |
|--|---|
| <p>Question 1</p>  <p>Si une somme d'argent de 1 € représente l'unité, la pièce qui correspond à $\frac{1}{10}$ est... ?</p> | <p>A ► 1 ct B ► 10 ct C ► 100 ct D ► Je ne sais pas</p> |
| <p>Question 2</p>  <p>Si une somme d'argent de 1 € représente l'unité, la pièce qui correspond à $\frac{50}{100}$ est ...?</p> | <p>A ► 50 ct B ► 5 ct C ► 2 ct D ► Je ne sais pas</p> |
| <p>Question 3</p>  <p>Si une longueur de 1 m représente l'unité, la fraction qui correspond à 1 cm est ...?</p> | <p>A ► $\frac{1}{10}$ B ► $\frac{1}{100}$ C ► $\frac{1}{1\ 000}$ D ► Je ne sais pas</p> |
| <p>Question 4</p>  <p>Si une masse de 1 kg représente l'unité, la masse qui correspond à $2 + \frac{3}{10}$ est ...?</p> | <p>A ► 2 kg 3 g B ► 2 kg 30 g C ► 2 kg 300 g D ► Je ne sais pas</p> |