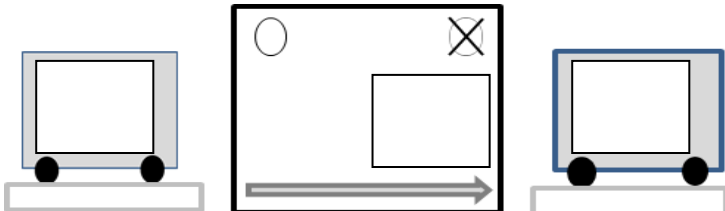
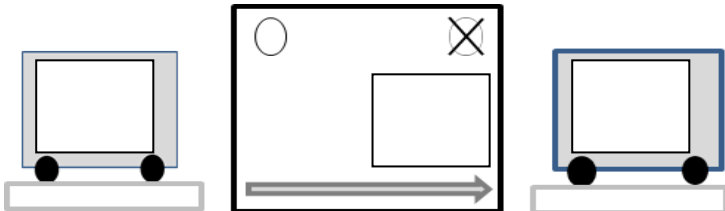
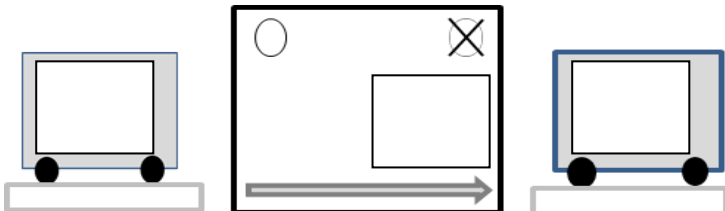
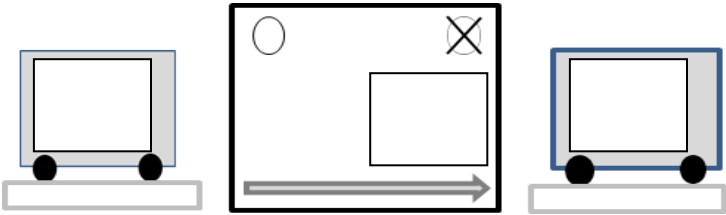
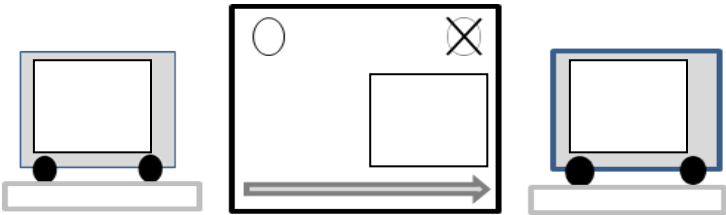


Texte du problème	Schéma du problème	Réponse	
		Nombre	Égalité
<p><b>Problème 1</b> Au début de la récréation, Tom avait 12 billes. A la fin de la récréation, Tom a 20 billes.</p> <p><b>Tom a-t-il gagné ou perdu des billes pendant la récréation ? Combien ?</b></p>			
<p><b>Problème 2</b> Le matin, il y avait 15 tomates dans le saladier. L'après-midi, Lola cueille des tomates qu'elle ajoute dans le saladier. En fin de journée, il y a 20 tomates dans le saladier.</p> <p><b>Combien a-t-elle cueilli de tomates ?</b></p>			
<p><b>Problème 3</b> Au départ, il y avait 12 voyageurs dans le bus. Puis, des voyageurs montent à l'arrêt et personne ne descend. Après cet arrêt, il y a 15 voyageurs dans le bus.</p> <p><b>Combien de voyageurs ont-ils monté dans le bus ?</b></p>			

<p><b>Problème 4</b></p> <p>Zoé avait 15 billes dans son sac. Puis, elle donne des billes à sa petite sœur. Elle a maintenant 12 billes.</p> <p><b>Combien Zoé a-t-elle donné de billes à sa petite-sœur ?</b></p>			
<p><b>Problème 5</b></p> <p>Léo joue au jeu de l'oie. Son pion est sur la case 20 du jeu. Le coup suivant, le pion est sur la case 15.</p> <p><b>Que s'est-il passé ?</b></p>			
<p><b>Problème 6</b></p> <p>Lola habite est dans un immeuble à l'étage 20. Elle va voir son amie Nora qui habite à l'étage 12.</p> <p><b>Combien d'étages a-t-elle descendus ?</b></p>	